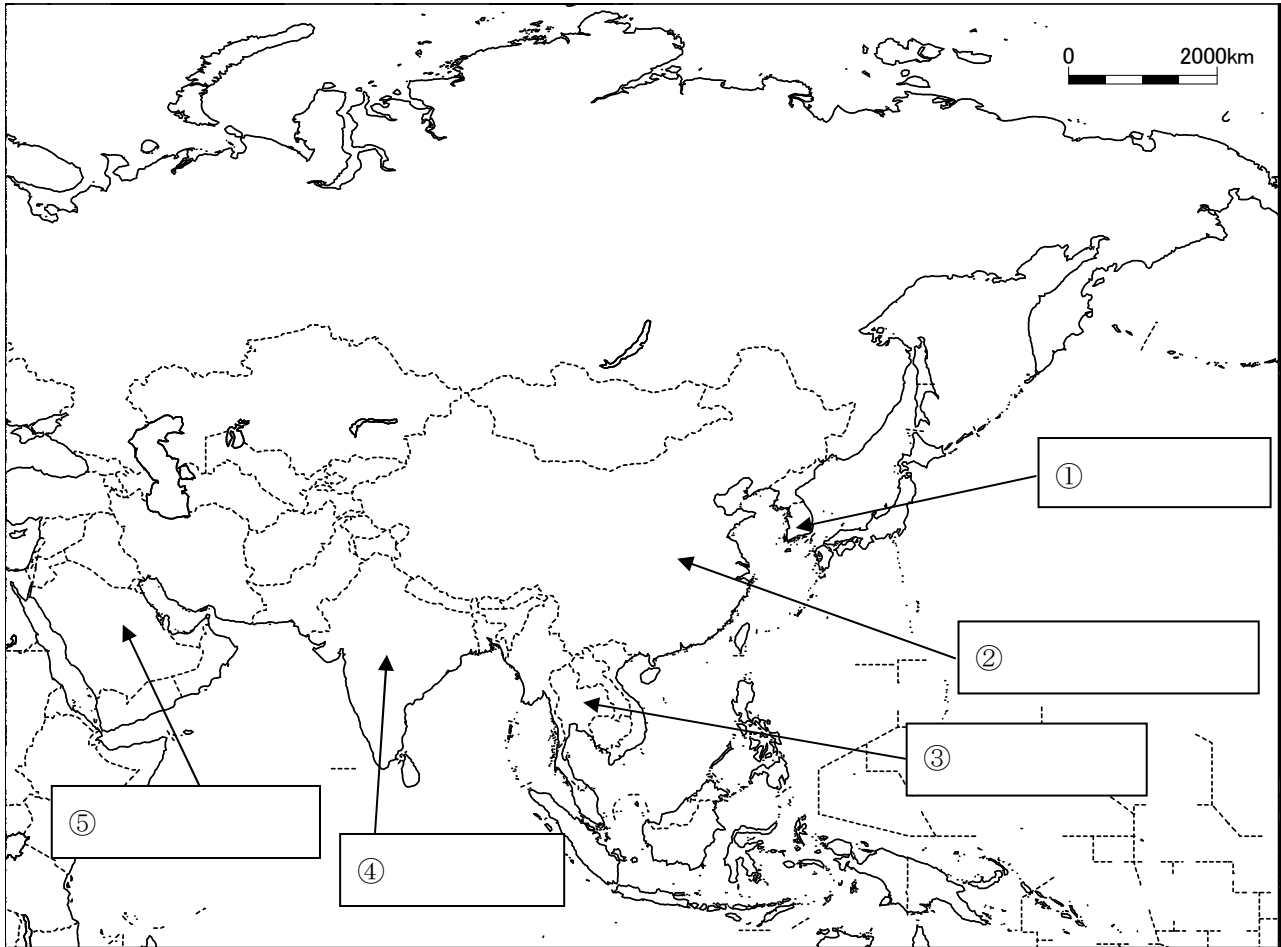



中社 (地)	世界の様々な地域	組	氏名
No.5 補充	世界の諸地域 (アジア州)	番	

1 次の地図中の ①～⑤にあてはまる国名を書きなさい。



2 1の①～⑤のそれぞれの国について、以下の()にあてはまる語句を書き入れなさい。

- (1) ①の国はかつて日本の()であった。現在はアジアNIES (新興工業経済地域)の一つであり、工業が発展している。
- (2) ②の国は人口13億人の大国である。そして、この国では人口抑制のため、夫婦1組に子どもを1人までとする()政策を行っている。
- (3) ③の国は、日本人の主食でもある()の輸出量が世界一である。また、天然ゴムやアブラやしの生産も盛んである。
- (4) ④の国は人口12億人にのぼる人口増加の著しい国である。この国の中で最も信仰されている宗教は()教である。
- (5) ⑤の国の国民のほとんどはイスラム教徒である。この国では()の産出が多く、埋蔵量・輸出量は世界一である。



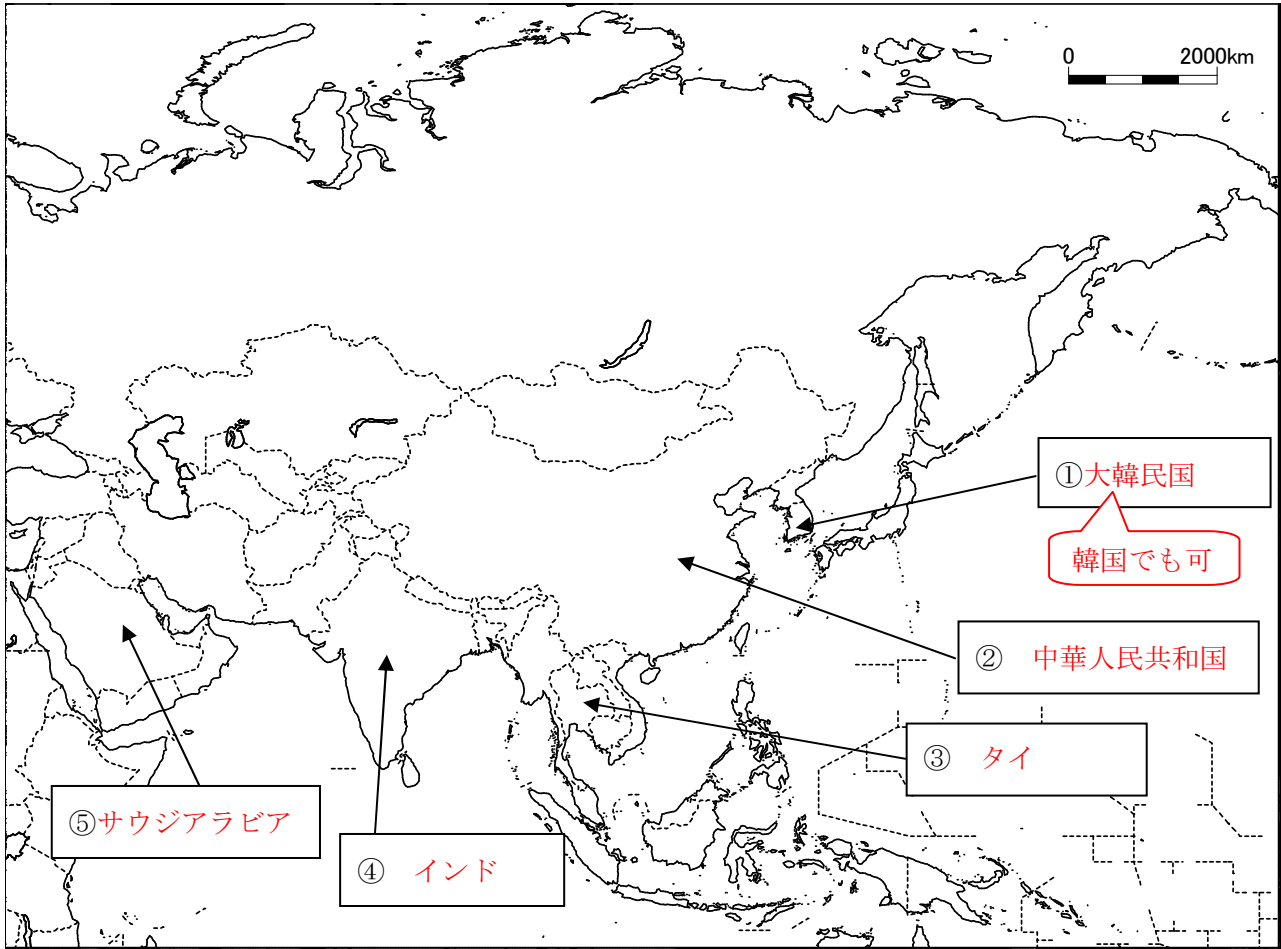
やってみよう!!

上の白地図に、①～⑤以外の国名も書き入れてみよう!

問題文にならって、①～⑤以外の国についても簡単な紹介文を書いてみよう!

中社 (地)	世界の様々な地域	組	氏名
No.5 補充	世界の諸地域 (アジア州)	番	

1 次の地図中の ①～⑤にあてはまる国名を書きなさい。



2 1の①～⑤のそれぞれの国について、以下の () にあてはまる語句を書き入れなさい。

(1) ①の国はかつて日本の (植民地) であった。現在はアジアNIES (新興工業経済地域) の一つであり、工業が発展している。

他にも台湾、香港、シンガポールなどがある。

(2) ②の国は人口13億人の大国である。そして、この国では人口抑制のため、夫婦1組に子どもを1人までとする (一人っ子) 政策を行っている。


(3) ③の国は、日本人の主食でもある (米) の輸出量が世界一である。また、天然ゴムやアブラやしの生産も盛んである。

(4) ④の国は人口12億人にのぼる人口増加の著しい国である。この国の中で最も信仰されている宗教は (ヒンドゥー) 教である。

インドを中心に、非常に信者の多い宗教である。

(5) ⑤の国の国民のほとんどはイスラム教徒である。この国では (原油) の産出が多く、埋蔵量・輸出量は世界一である。

石油でも可



やってみよう!!

上の白地図に、①～⑤の問題文にならって、

アジアには多様な国があるので、政治、宗教、文化、食べ物など興味のあるものを調べよう!

う! 例: マレーシアはルックイースト政策をとり、日本や韓国のような工業立国を目指して発展してきた。