

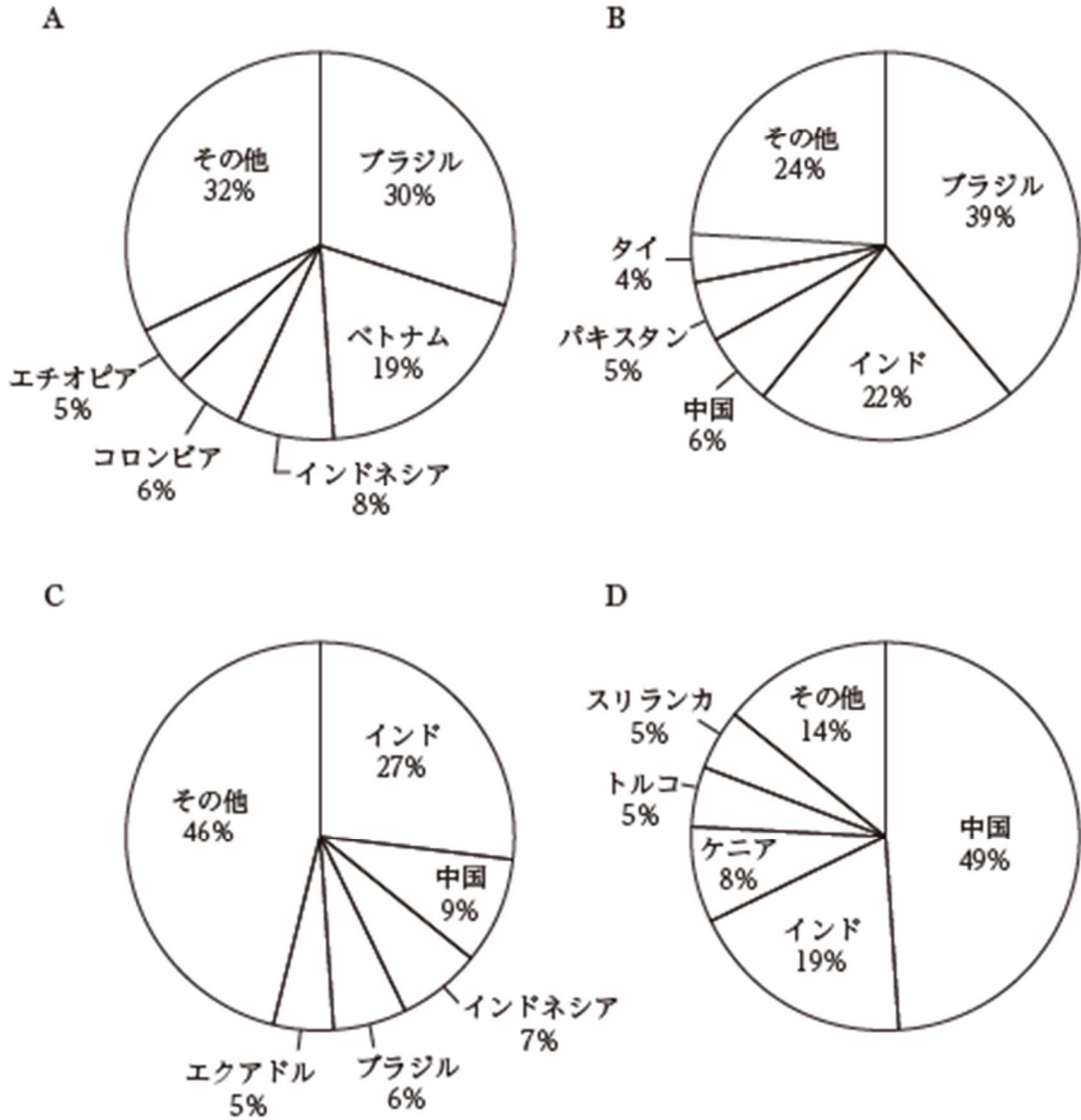
選考	学芸員（近現代美術） 教養択一式	No. 1
----	------------------	-------

高齢者をめぐる日本の現状に関する次の記述ア～オのうちには妥当なものが二つある。それらはどれか。

- ア. 平均寿命は、男性も女性も近年70代後半で推移しており、女性の方が男性よりも長い。
- イ. 公的高齢年金では、原則として65歳から年金を受給できるが、希望すれば一定の年齢の範囲内で受給開始時期を選択できる、年金の繰上げ・繰下げ受給の制度がある。
- ウ. 原則75歳以上の高齢者を対象とした後期高齢者医療では、医療費の窓口負担割合が所得にかかわらず3割であったが、近年、所得にかかわらず1割に引き下げられた。
- エ. 65歳以上の者における、公的介護保険制度の要介護又は要支援の認定者数は、近年減少傾向にある。
- オ. 自動車等の運転免許証の更新期間が満了する日に年齢が一定以上の高齢者は、運転免許証を更新するに当たり、高齢者講習の受講や認知機能検査の受検が義務付けられている。

- 1. ア, ウ
- 2. ア, オ
- 3. イ, エ
- 4. イ, オ
- 5. ウ, エ

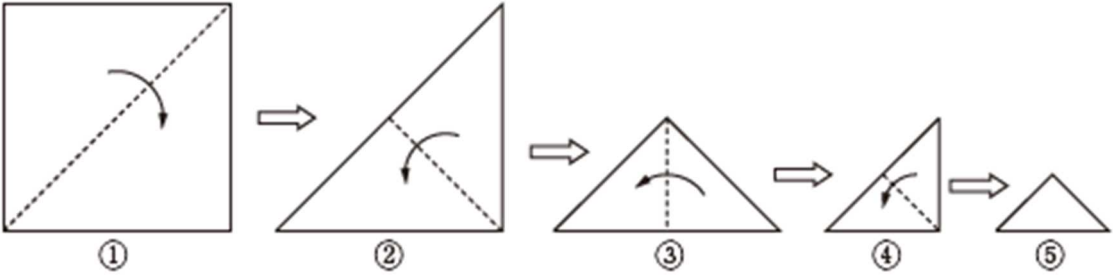
次のグラフ A～D は、コーヒー豆、サトウキビ、茶葉、バナナの 2021 年における生産量の国別の割合（上位 5 か国）を示したものである。グラフと品目を正しく組み合わせているのはどれか。




- | A        | B     | C     | D     |
|----------|-------|-------|-------|
| 1. コーヒー豆 | サトウキビ | バナナ   | 茶葉    |
| 2. コーヒー豆 | 茶葉    | バナナ   | サトウキビ |
| 3. コーヒー豆 | バナナ   | サトウキビ | 茶葉    |
| 4. バナナ   | コーヒー豆 | サトウキビ | 茶葉    |
| 5. バナナ   | コーヒー豆 | 茶葉    | サトウキビ |

正方形の紙を、図Ⅰのように①～⑤の順番に点線に沿って谷折りにしていく。折り曲げた⑤の紙を、ある直線に沿ってはさみで切り、切り分けられた一方を広げたところ、図Ⅱのようになった。⑤においてはさみを入れた直線を破線で示したものはどれか。

図Ⅰ



図Ⅱ



1.



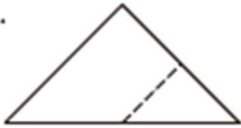
2.



3.



4.



5.

